

„Rośliny i Zwierzęta Polskich Gór”

.....
imię i nazwisko

grupa

.....
szkoła nauczyciel prowadzący

liczba punktów

A/ Zaznacz prawidłową odpowiedź. Po 1 pkt. za każdą prawidłową odpowiedź.

<p>1. Która z wymienionych roślin to paproć?</p> <p>a) narecznica górską b) podkolan zielonawy c) bartsja alpejska d) czyścica apłejaska</p>	<p>8. Siwerniak należy do rodziny:</p> <p>a) jastrzębiowate b) pliszkwate c) gołębniowate d) siewkowate</p>
<p>2. Która z wymienionych roślin rośnie w wilgotnych szczelinach skał?</p> <p>a) szafran spiski b) knieć górska c) listera jajowata d) różeniec górski</p>	<p>9. Która z wymienionych roślin posiada na brzegu blaszki liściowej grudki węglanu wapnia?</p> <p>a) dębik ośmiopłatkowy b) miłosna górska c) skalnica gronkowa d) zawilec narcyzowy</p>
<p>3. Wynurł to:</p> <p>a) skorupiak b) pajak c) chrząszcz d) ptak</p>	<p>10. Długość ciała świstaka wynosi:</p> <p>a) ok. 10 cm b) ok. 20 cm c) ok. 50 cm d) ok. 80 cm</p>
<p>4. Który z wymienionych gatunków jest endemitem dla Pienin?</p> <p>a) storczyk pieniński b) chaber pieniński c) mniszek pieniński d) zawilec pieniński</p>	<p>11. Która z wymienionych roślin posiada na Babiej Górze swoje jedyne stanowisko w Polsce?</p> <p>a) wywócznik okótkowy b) wierzbownica górska c) rogownica alpejska d) przetacznik górski</p>
<p>5. Sił skucina to roślina spotykana głównie:</p> <p>a) w piętrze pogórza b) w reglu dolnym c) w reglu górnym d) w piętrze alpejskim</p>	<p>12. Boimka dwurzędowa to:</p> <p>a) mech b) trawa c) wałka d) chrząszcz</p>
<p>6. Który z wymienionych owadów posiada głowę wydłużoną w kształcie ryjka?</p> <p>a) rębacz sosnowy b) rozpucz lepiężnikowiec c) kostrzeń d) sichrawa górska</p>	<p>13. Która z wymienionych ryb zamieszkuje głównie bystre, podgórskie rzeczki z czystą wodą?</p> <p>a) sielawa b) lin c) wzdregę d) lipień</p>
<p>7. Podkowiec mały odżywia się:</p> <p>a) pyłkiem roślinnym b) owocami c) owadami d) drobnymi kręgowcami</p>	<p>14. Jaka jest liczba szpilek na krótkopędach u limby?</p> <p>a) 2 b) 5 c) 7 d) 10</p>




<p>15. Która z wymienionych cech dotyczy płochacza halnego?</p> <p>a) na jasnym podgardlu ma rzędy czarnych plamek</p> <p>b) podgardle jest jednolicie białe</p> <p>c) na jasnym podgardlu ma dwa czarne paski</p> <p>d) na jasnym podgardlu ma jeden czarny pasek</p>	<p>18. Koziorożce występują w środowisku naturalnym w Polsce:</p> <p>a) tylko w Tatrach</p> <p>b) w Tatrach i w Górach Świętokrzyskich</p> <p>c) w Sudetach</p> <p>d) koziorożce nie występują w Polsce w środowisku naturalnym</p>
<p>16. Jak długo żyją średnio norniki śnieżne?</p> <p>a) od pół do jednego roku</p> <p>b) od dwóch do trzech lat</p> <p>c) od czterech do pięciu lat</p> <p>d) od dziesięciu do piętnastu lat</p>	<p>19. Arnika górską rośnie głównie:</p> <p>a) na łąkach w piętrze pogórza i regla dolnego</p> <p>b) w borach świerkowych</p> <p>c) w lasach bukowych</p> <p>d) wśród skał w piętrze alpejskim</p>
<p>17. Regiel górny sięga na Babiej Górze do wysokości:</p> <p>a) ok. 1100 m. n.p.m.</p> <p>b) ok. 1350 m.n.p.m.</p> <p>c) ok. 1750 m.n.p.m.</p> <p>d) ok. 1920 m.n.p.m.</p>	<p>20. Chrzaszcz z rodziny biegaczowatych, występujący w Karpatach pod kamieniami i starymi kłodami to:</p> <p>a) myśliczek dwupłamek</p> <p>b) szykoń metaliczny</p> <p>c) cioch</p> <p>d) przekrasek mróweczka</p>

B/ Odpowiedz na pytania. Po 1 pkt. za każdą prawidłową odpowiedź.

<p>21. Do jakiej rodziny należy rojnik górski?</p> <p>GRUBOSZOWATE</p>	<p>24. Jaki kolor mają kwiaty kuklika górskiego?</p> <p>ŻÓŁTY</p>
<p>22. Który z naszych górskich parków narodowych wchodzi w skład Międzynarodowego Rezerwatu Biosfery „Karpaty Wschodnie“?</p> <p>BIESZCZADZKI PARK NARODOWY</p>	<p>25. Podaj nazwę gatunkową przedstawiciela rzędu owadożernych, występującego w Polsce tylko w Karpatach i Sudetach.</p> <p>RYJÓWKA GÓRSKA</p>
<p>23. W którym piętrze roślinności na Babiej Górze świerk jest gatunkiem dominującym?</p> <p>REGIEL GÓRNY</p>	<p>26. Jak nazywa się przedstawiciel rodziny ropuszkowatych, występujący w Polsce do wysokości 1600 m.n.p.m.?</p> <p>KUMAK GÓRSKI</p>

C/ Podaj nazwy gatunkowe roślin i zwierząt przedstawionych na rysunkach.

Po 1 pkt. za każdą prawidłową odpowiedź.

<p>27.</p>  <p>NIEPYLAK MNEMOZYNA</p>	<p>28.</p>  <p>URDZIK KARPACKI lub GÓRSKI URDZIK</p>	<p>29.</p>  <p>POMURNIK</p>
---	---	---