



Polskie Towarzystwo Ochrony Przyrody „Salamandra”

Wojewódzki Konkurs Przyrodniczy dla Uczniów Szkół Średnich

„Zwierzęta i Rośliny Wodne”

ETAP WOJEWÓDZKI - TEST

.....
grupa

.....
imię i nazwisko

.....
liczba punktów

.....
szkoła

.....
nauczyciel prowadzący

A/ Zaznacz prawidłową odpowiedź - 1 pkt. za każdą prawidłową odpowiedź

1. Które z wymienionych zwierząt to chrząszcz?

- a) płaszczka szara
- b) topień
- c) zagrzebka
- d) przytulik strumieniowy

8. Tarczyca pospolita to:

- a) gąbka
- b) roślina zielna
- c) pluskwiak
- d) skorupiak

2. Który z wymienionych gatunków łabędzi gniazduje w Polsce?

- a) łabędź czarnodzioby
- b) łabędź krzykliwy
- c) łabędź czarny
- d) łabędź trębacz

9. Która z wymienionych ryb należy do rodziny karpowatych?

- a) brzana
- b) piskorz
- c) sielawa
- d) lipień

3. Który z wymienionych gatunków kaczek należy do grzązyc, czyli kaczek nurkujących?

- a) ogorzałka
- b) płaskonos
- c) krakwa
- d) cyraneczka

10. Które z wymienionych zwierząt odżywia się owadami?

- a) bursztynka pospolita
- b) oczlik zwyczajny
- c) rzesorek rzeczek
- d) wyławek biały

4. Która z wymienionych ryb jest rybą drapieżną?

- a) słonecznica
- b) świnka
- c) wzdrega
- d) sandacz

11. Kwiaty której z wymienionych roślin są żółte?

- a) przytulia błotna
- b) lobelia jeziorna
- c) kropidło wodne
- d) pływacz zwyczajny

5. Który z wymienionych ssaków nie jest rodzimy dla naszej fauny?

- a) bóbr europejski
- b) nutria
- c) wydra
- d) rzesorek mniejszy

12. Która z wymienionych ryb jest najbardziej odporna na niedobór tlenu w wodzie?

- a) ukleja
- b) lin
- c) ciosa
- d) boleń

6. Która z wymienionych ryb umieszczona jest w Polskiej Czerwonej Księdze Zwierząt?

- a) piekielnica
- b) sieja
- c) aloza
- d) boleń

13. Który z wymienionych płazów posiada pionową żrenicę?

- a) ropucha szara
- b) rzekotka drzewna
- c) salamandra plamista
- d) grzebiuszka ziemna

7. Samce którego z wymienionych płazów przybierają w okresie godowym liliową lub niebieskawą barwę?

- a) ropucha paskówka
- b) żaba śmieszka
- c) żaba moczarowa
- d) grzebiuszka ziemna

14. Który z wymienionych płazów ma najgłośniejszy śpiew godowy?




- a) ropucha szara
- b) grzebiuszka ziemna
- c) rzekotka drzewna
- d) żaba śmieszka

<p>15. Który z wymienionych płazów nazywany jest czasem żabą czosnkową, z racji wydzielanego zapachu?</p> <p>a) kumak górski b) grzebiuszka ziemna c) żaba trawna d) żaba jeziorkowa</p>	<p>19. W jakiej postaci składa skrzek ropucha zielona?</p> <p>a) każde jajo z osobna b) bezkształtne kłęby c) podwójny sznur d) kuliste pakiety</p>
<p>16. Która z wymienionych mew <u>nie</u> gniazduje w Polsce?</p> <p>a) czarnogłowa b) srebrzysta c) mała d) obroźna</p>	<p>20. Która z wymienionych roślin jest owadożerna?</p> <p>a) czyściec błotny b) tłustosz pospolity c) grąźel żółty d) żabiściek pływający</p>
<p>17. Żółwie błotne składają jaja:</p> <p>a) na suchym łądzie, w wykopanych przez siebie jamkach b) wśród butwiejących roślin na granicy wody i łądu c) na płycznach, w mule, na dnie zbiorników wodnych d) w specjalnie wykonanych gniazdach wśród traw</p>	<p>21. Który z wymienionych ptaków posiada rubinowoczerwone oczy?</p> <p>a) gagoł b) kormoran c) zausznik d) bąk</p>
<p>18. U topika:</p> <p>a) samiec jest większy od samicy b) samica jest większa od samca c) przedstawiciele obu płci są tej samej wielkości d) zwierzęta te są obojnakami</p>	<p>22. Morświn osiąga długość:</p> <p>a) do ok. 55 cm b) do ok. 185 cm c) do ok. 255 cm d) do ok. 385 cm</p>

B/ Odpowiedz na pytania - 1 pkt. za każdą prawidłową odpowiedź

<p>23. Podaj nazwę gatunku małża, którego polska nazwa związana jest z używaniem niegdyś połówek jego muszli do rozrabiania farb.</p> <p>.....</p>	<p>25. Jaki gatunek raka jest obecnie w Polsce najbardziej pospolity?</p> <p>.....</p>
<p>24. Do jakiej rodziny należy wydra?</p> <p>.....</p>	<p>26. Jak się nazywa występujący w Polsce gatunek słodkowodnego małża, wytwarzający tzw. bisior? Podaj pełną nazwę gatunkową.</p> <p>.....</p>

C/ Podaj nazwy gatunkowe rośliny i zwierząt, które przedstawiono na rysunkach - 1 pkt. za każdą prawidłową odpowiedź

<p>27.</p>  <p>.....</p>	<p>28.</p>  <p>.....</p>	<p>29.</p>  <p>.....</p>
---	---	---